






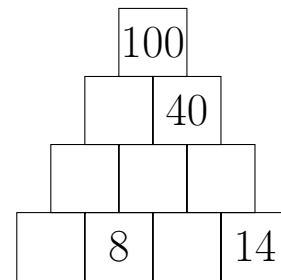
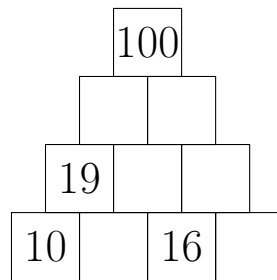
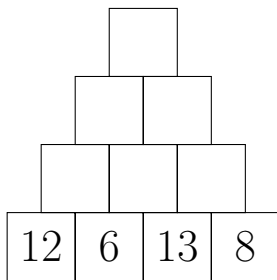
- (3) Henry legt aus 12 Quadraten mit der Seitenlänge 1cm ein Rechteck ohne Lücken. Dann addiert er die Längen der vier Seiten seines Rechtecks und erhält als Ergebnis eine der folgenden Längenangaben.

Welche?

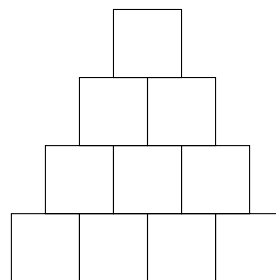
- (A) 12 cm      (B) 14 cm      (C) 15 cm      (D) 18 cm      (E) 20 cm



2. a) Vervollständige die folgenden Zahlenmauern der Addition.



- b) Trage die Zahlen 3, 4, 8, 11, 12, 23, 37, 41, 53 und 76 so in die leeren Felder der Zahlenmauer ein, dass eine richtig gelöste Zahlenmauer der Addition entsteht.



Zum Probieren:

